




## Θέμα 2<sup>ο</sup>

α) Με βάση τα παρακάτω σχήματα, να γράψετε τους αριθμούς 1, 2, 3, 4 από τη στήλη Α και δίπλα ένα από τα γράμματα α, β, γ, δ της στήλης Β που δίνει τη σωστή αντιστοίχιση. Σημειώνεται ότι ένα γράμμα από τη ΣΤΗΛΗ Β θα περισσέψει. (Μονάδες 9)

ΣΤΗΛΗ Α	ΣΤΗΛΗ Β
1. 	α. Πρεσοστάτης χαμηλής και υψηλής πίεσης
2. 	β. Τετράοδη βάνα αντιστροφής
3. 	γ. Διανομέας που μπορεί να λειτουργεί και ανάστροφα
	δ. Εξατμιστής

β) Να εξηγήσετε ποια είναι η λειτουργία του εξαρτήματος που παρουσιάζεται στο σχήμα 2 του παραπάνω πίνακα. (Μονάδες 8)

γ) Σε ποιους αυτοματισμούς συναντάμε τα εικονιζόμενα εξαρτήματα 1 και 2 του πίνακα; (Μονάδες 8)

**Μονάδες 25**