



## Θέμα 2<sup>ο</sup>



**2.1** Να χαρακτηρίσετε τις προτάσεις που ακολουθούν, γράφοντας δίπλα στο γράμμα που αντιστοιχεί σε κάθε πρόταση τη λέξη Σωστό, αν η πρόταση είναι σωστή ή τη λέξη Λάθος, αν η πρόταση είναι λανθασμένη.

- α.** Το στοιχείο των ΤΚΜ λειτουργεί συνήθως με διάταξη διασταυρούμενης ροής.
- β.** Ένα χαρακτηριστικό σημείο όλων των ΤΚΜ είναι ότι έχουν τον ανεμιστήρα μπροστά από το στοιχείο.
- γ.** Στις ΤΚΜ, επειδή αυτές τοποθετούνται μέσα σε χώρους που υπάρχουν άνθρωποι, για τη μείωση του θορύβου εφαρμόζονται μικρές ταχύτητες του αέρα, συνήθως κάτω του 1,4 m/s.

### **Μονάδες 9**

**2.2** Με βάση τη σχηματική παράσταση που απεικονίζεται στο παρακάτω σχήμα, να γράψετε τους αριθμούς 1, 2, 3, 4 από τη Στήλη Α και δίπλα ένα από τα γράμματα α, β, γ, δ, ε της Στήλης Β που δίνει τη σωστή αντιστοίχιση. Σημειώνεται ότι ένα (1) γράμμα από τη Στήλη Β θα περισσέψει.

ΣΤΗΛΗ Α	ΣΤΗΛΗ Β
<b>1.</b> 	<b>α.</b> Εξωτερικό στοιχείο για τη λειτουργία μίας μόνο κονσόλας (σύστημα αυτόνομου κλιματιστικού δωματίου ή split-unit)
<b>2.</b> 	<b>β.</b> ΤΚΜ ψευδοροφής (τύπου κασέτας)

<p><b>3.</b></p> 	<p><b>γ.</b> ΤΚΜ τοίχου με στοιχείο DX (κονσόλα τοίχου)</p>
<p><b>4.</b></p> 	<p><b>δ.</b> FCU οριζόντιας τοποθέτησης (φανερής τοποθέτησης)</p>
	<p><b>ε.</b> Κονσόλα δαπέδου-οροφής</p>

**Μονάδες 16**