





Θέμα 2^ο

2.1 Να γράψετε τους αριθμούς 1, 2, 3, 4 από τη Στήλη Α, όπου απεικονίζονται εξαρτήματα δισωλήνιου συστήματος κεντρικής θέρμανσης και δίπλα ένα από τα γράμματα α, β, γ, δ, ε της Στήλης Β που δίνει τη σωστή αντιστοίχιση. Σημειώνεται ότι ένα (1) γράμμα από τη Στήλη Β θα περισσέψει.

Στήλη Α	Στήλη Β
1. 	α. Γωνιακός διακόπτης θερμαντικού σώματος
2. 	β. Τετράοδος διακόπτης
3. 	γ. Βαλβίδα εξαερισμού
4. 	δ. Διακόπτης προσαρμογής με ενσωματωμένο θερμοστάτη
	ε. Στυπιοθλίπτης επιμήκυνσης

2.2 Να αναφέρετε σε ποιους τύπους διακρίνονται τα κυματοειδή διαστολικά ανάλογα με τον τρόπο σύνδεσής τους.

Μονάδες 9