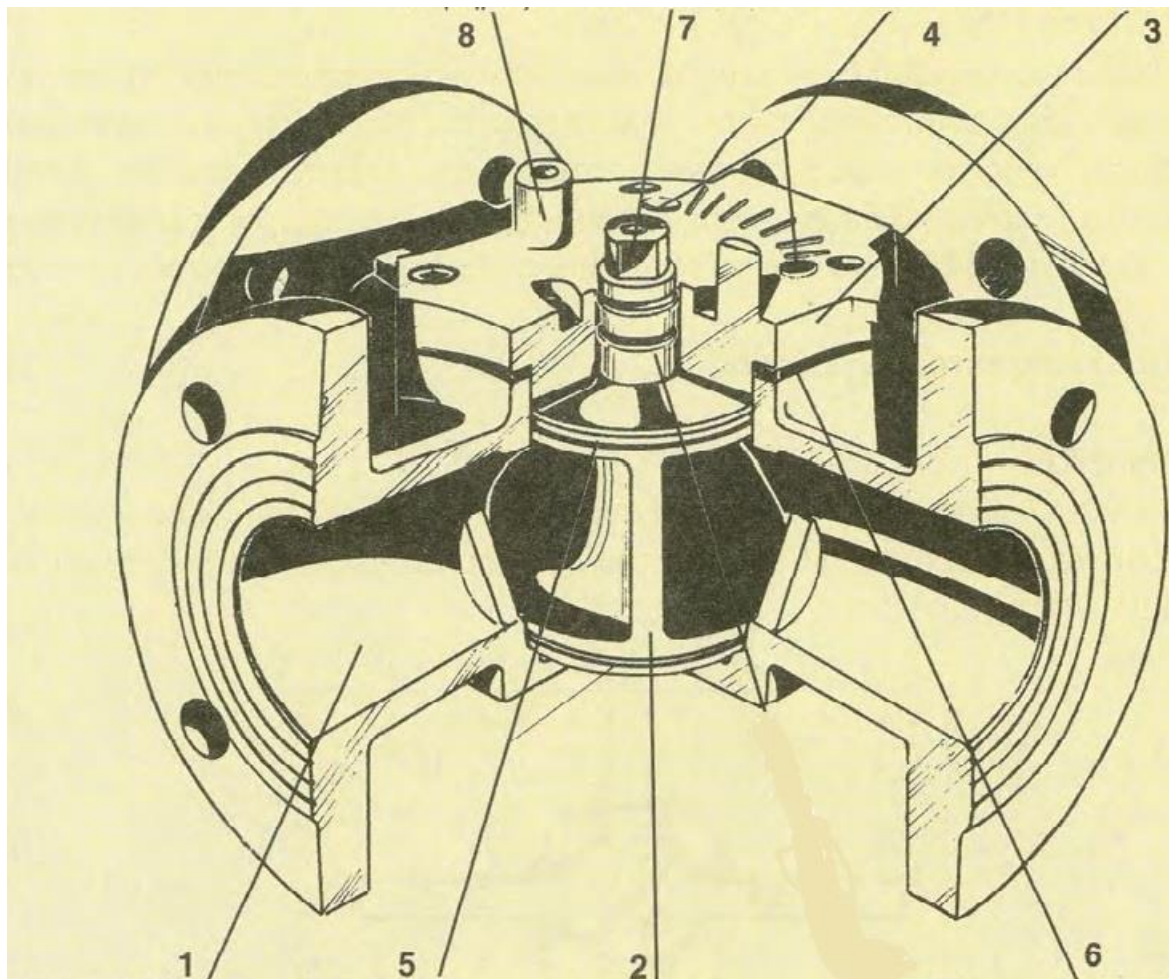


ΘΕΜΑ 2^ο


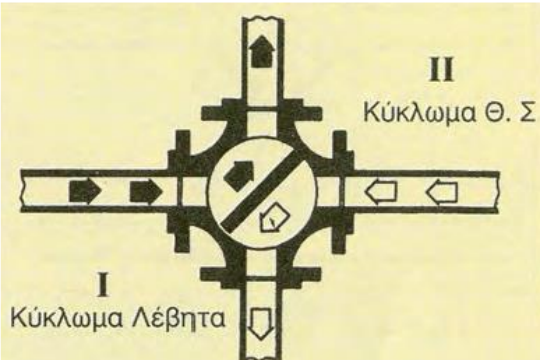
2.1 Με βάση το Σχήμα 1 που απεικονίζει τα κύρια μέρη μιας βάνας αναμίξεως, να γράψετε τους αριθμούς 1, 2, 3, 4, 5, 6, 7, 8 από τη Στήλη Α και δίπλα ένα από τα γράμματα α, β, γ, δ, ε, στ, η, θ της Στήλης Β που δίνει τη σωστή αντιστοίχιση.



Σχήμα 1

ΣΤΗΛΗ Α	ΣΤΗΛΗ Β
1.	α) Βάση κινητήρα.
2.	β) Άξονας χειρισμού.
3.	γ) Ένδειξη ανοιχτή/κλειστή.
4.	δ) Δακτύλιοι πεταλούδας.
5.	ε) Φλάντζα καπακιού.
6.	στ) Καπάκι.
7.	η) Σώμα βαλβίδας.
8.	θ) Πεταλούδα.

2.2 Να γράψετε τους αριθμούς 1, 2, 3, από τη Στήλη Α και δίπλα ένα από τα γράμματα α, β, γ, της Στήλης Β που δίνει τη σωστή αντιστοίχιση.

ΣΤΗΛΗ Α	ΣΤΗΛΗ Β
1. Βάνα ανοιχτή.	α) 
2. Βάνα κλειστή.	β) 
3. Βάνα με πεταλούδα σε ενδιάμεση θέση.	γ) 