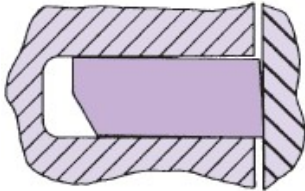
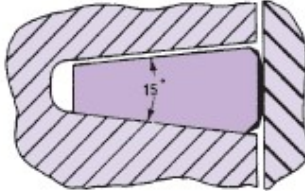
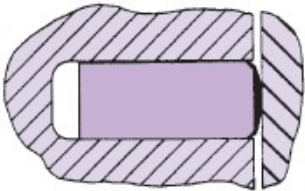
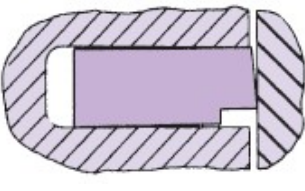


ΘΕΜΑ 2^ο

2.1 Με βάση τα παρακάτω σχήματα που απεικονίζουν διάφορα είδη ελατηρίων εμφόλων, να γράψετε στο τετράδιό σας τους αριθμούς 1, 2, 3, 4 από τη Στήλη Α και, δίπλα, ένα από τα γράμματα α, β, γ, δ, ε, της Στήλης Β, που δίνει τη σωστή αντιστοίχιση. Σημειώνεται ότι ένα (1) γράμμα από τη Στήλη Β θα περισσέψει.

ΣΤΗΛΗ Α	ΣΤΗΛΗ Β
1. 	α. Ελατήριο με δόντι (πατούρα)
2. 	β. Ελατήριο με τραπεζοειδή διατομή
3. 	γ. Επιχρωμιωμένο ελατήριο
4. 	δ. Σφηνοειδές ελατήριο
	ε. Τριγωνικό ελατήριο

Μονάδες 16

2.2 Να αναφέρετε ονομαστικά τρία (3) από τα μέρη του εμφόλου.

Μονάδες 9