
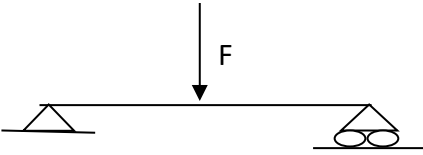
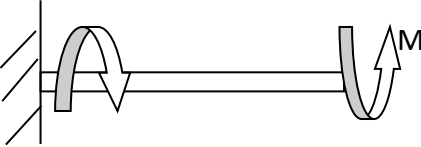



ΘΕΜΑ 2^ο

2.1 Να αντιστοιχίσετε τους αριθμούς 1, 2, 3, 4 από τη στήλη Α, με ένα από τα γράμματα α, β, γ, δ, ε της στήλης Β που δίνει τη σωστή αντιστοίχιση. Σημειώνεται ότι ένα γράμμα από τη στήλη Β θα περισσέψει.

ΣΤΗΛΗ Α (Καταπονήσεις σώματος)	ΣΤΗΛΗ Β (Ονομασία καταπόνησης)
1. 	α. Θλίψη
2. 	β. Στρέψη
3. 	γ. Εφελκυσμός
4. 	δ. Διάτμηση
	ε. Κάμψη

Μονάδες 16

2.2. Να χαρακτηρίσετε τις προτάσεις που ακολουθούν, γράφοντας δίπλα στο γράμμα που αντιστοιχεί σε κάθε πρόταση τη λέξη Σωστό, αν η πρόταση είναι σωστή ή τη λέξη Λάθος, αν η πρόταση είναι λανθασμένη.

α. Τα υλικά τα οποία εμφανίζουν σημαντικές παραμορφώσεις, πριν επέλθει η θραύση τους ονομάζονται ψαθυρά υλικά.

β. Ο χαλκός είναι όλκιμο υλικό.

γ. Μόνιμες ή πλαστικές ονομάζονται οι παραμορφώσεις, οι οποίες εξακολουθούν να παραμένουν στα σώματα και μετά την αποφόρτισή τους.

Μονάδες 9