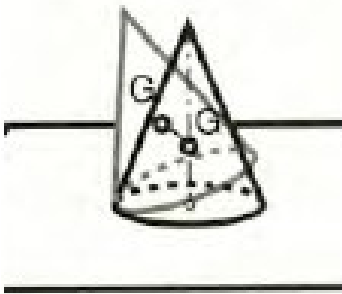
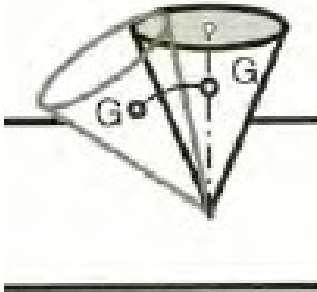



ΘΕΜΑ 2°

2.1. Να γράψετε τους αριθμούς 1, 2, 3 από την Στήλη Α και δίπλα ένα από τα γράμματα α, β, γ, δ της Στήλης Β που δίνει την σωστή αντιστοίχιση. Σημειώνεται ότι ένα γράμμα από τη Στήλη Β θα περισσέψει.

ΣΤΗΛΗ Α (περιπτώσεις ισορροπίας)	ΣΤΗΛΗ Β (είδη ισορροπίας)
1. 	α. Ευσταθής
2. 	β. Κατακόρυφη
3. 	γ. Ασταθής
	δ. Αδιάφορη

Μονάδες 9

2.2 Να γράψετε τον αριθμό κάθε ενός κενού του παρακάτω κειμένου και δίπλα, μία από τις λέξεις που συμπληρώνει σωστά την αντίστοιχη πρόταση. (Σημειώνεται ότι δύο από τις λέξεις θα περισσέψουν).

Λέξεις που δίνονται: ευσταθή, ανυψώνεται, χαμηλότερα, ασταθή, υψηλότερα, αδιάφορη

«Στην _____ (1) ισορροπία, κατά τη μετακίνηση του σώματος, το κέντρο βάρους του σώματος μετακινείται _____ (2) σε σχέση με την αρχική του θέση. Στην _____ (3) ισορροπία, κατά τη μετακίνηση του σώματος, το κέντρο βάρους του _____ (4), με αποτέλεσμα τη δημιουργία ροπής επαναφοράς στην αρχική του θέση».

Μονάδες 16