





Θέμα 2^ο

2.1 Να γράψετε τους αριθμούς 1, 2, 3, 4 από τη στήλη Α και δίπλα ένα από τα γράμματα α, β, γ, δ, ε της στήλης Β που δίνει τη σωστή αντιστοίχιση. Σημειώνεται ότι ένα από τα γράμματα της στήλης Β θα περισσέψει.

ΣΤΗΛΗ Α (Είδη ολισθητήρων)	ΣΤΗΛΗ Β (Ονομασία)
1. 	α. Ολισθητήρας επίπεδης μορφής
2. 	β. Ολισθητήρας μορφής V
3. 	γ. Ολισθητήρας κυλινδρικής μορφής
4. 	δ. Ολισθητήρας μορφής χελιδονοουράς
	ε. Συνδυασμός ολισθητήρων μορφής V και επίπεδης μορφής.

Μονάδες 16

2.2 Να αναφέρετε, ονομαστικά, τα κύρια υλικά κατασκευής των σωμάτων των εργαλειομηχανών.

Μονάδες 9