

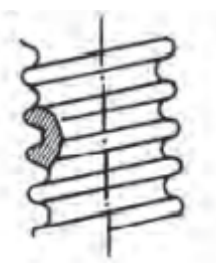


## Θέμα 2<sup>ο</sup>

**2.1** Να γράψετε τους αριθμούς 1, 2, 3 από τη Στήλη Α και, δίπλα, ένα από τα γράμματα α, β, γ, δ της Στήλης Β, που δίνει τη σωστή αντιστοίχιση. Σημειώνεται ότι (1) ένα γράμμα από τη Στήλη Β θα περισσέψει.

Στήλη Α (μορφή σπειρωμάτων)	Στήλη Β (ονομασία)
1. 	α. Πριονωτό.
2. 	β. Στρογγυλό.
3. 	γ. Ορθογωνικό.
	δ. Τριγωνικό.

**Μονάδες 9**

**2.2** Να χαρακτηρίσετε τις προτάσεις που ακολουθούν, γράφοντας δίπλα στο γράμμα που αντιστοιχεί σε κάθε πρόταση τη λέξη Σωστό, αν η πρόταση είναι σωστή ή τη λέξη Λάθος, αν η πρόταση είναι λανθασμένη.

- α. Κατά τη σύσφιγξη ενός κοχλία, το περικόχλιο καταπονείται σε λυγισμό.
- β. Το περικόχλιο (ή παξιμάδι) δεν είναι τίποτα περισσότερο από ένα σωλήνα, που φέρει σπείρωμα εξωτερικά του σωλήνα.
- γ. Το μετρικό κατά ISO σπείρωμα κατασκευάζεται σε τρεις εκτελέσεις: λεπτό (f), μέσο (m) και χονδρό (g).

δ. Στις κοχλιώσεις υπάρχει κίνδυνος να ξεβιδωθεί το περικόχλιο εξαιτίας των ταλαντώσεων και των κραδασμών των διαφόρων κινούμενων εξαρτημάτων μιας μηχανής.

**Μονάδες 16**