
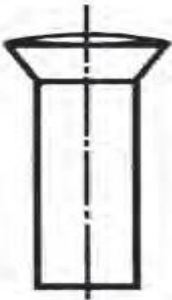


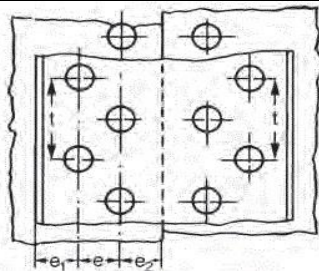
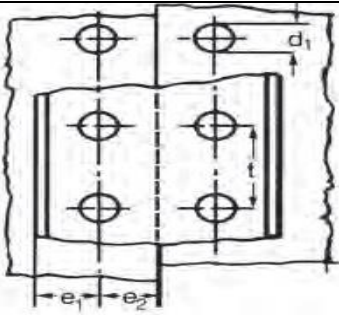
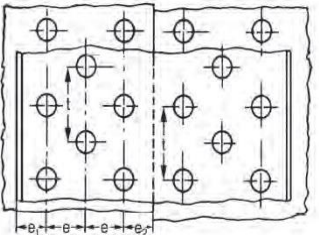


Θέμα 2°

2.1 Να γράψετε τους αριθμούς 1, 2, 3, 4, από τη Στήλη Α (όπου αναγράφονται οι ονομασίες των ήλων ανάλογα με τη μορφή της κεφαλής τους) και δίπλα ένα από τα γράμματα α, β, γ, δ, της Στήλης Β (όπου φαίνεται η σχεδίασμός των ήλων), που δίνει τη σωστή αντιστοίχιση.

ΣΤΗΛΗ Α Ονομασία των ήλων	ΣΤΗΛΗ Β Σχεδίαση των ήλων
1. Ημιβυθισμένος	 α.
2. Βυθισμένος	 β.
3. Ημιστρόγγυλος	 γ.
4. Σωληνωτός	 δ.

2.2 Να γράψετε τους αριθμούς 1, 2, 3 από τη Στήλη Α (όπου αναγράφονται οι ονομασίες των ηλώσεων) και δίπλα ένα από τα γράμματα α, β, γ της Στήλης Β (όπου φαίνεται η σχεδίαση των ηλώσεων), που δίνει τη σωστή αντιστοίχιση.

ΣΤΗΛΗ Α Ονομασίες των ηλώσεων	ΣΤΗΛΗ Β Σχεδίαση των ηλώσεων
1. Απλής σειράς	 <p>α.</p>
2. Τριπλής σειράς	 <p>β.</p>
3. Διπλής σειράς	 <p>γ.</p>

Μονάδες 9