


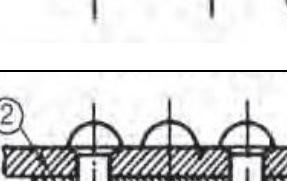


## Θέμα 2°

**2.1** Να γράψετε τους αριθμούς 1, 2, 3, 4 από τη Στήλη Α (όπου αναγράφονται οι ονομασίες των ηλώσεων ανάλογα με την κατηγορία που ανήκουν) και δίπλα ένα από τα γράμματα α, β, γ, δ της Στήλης Β (όπου φαίνεται η σχεδίαση των ηλώσεων), που δίνει τη σωστή αντιστοίχιση.

| ΣΤΗΛΗ Α<br>Ονομασία των ηλώσεων | ΣΤΗΛΗ Β<br>Σχεδίαση των ηλώσεων  |
|---------------------------------|--|
| 1. Διπλής σειράς                | <br>α.   |
| 2. Τριπλής σειράς ζικ ζακ       | <br>β.  |
| 3. Διπλής σειράς ζικ ζακ        | <br>γ. |
| 4. Απλής σειράς                 | <br>δ. |

**Μονάδες 16**

## **2.2**

**α)** Να αναφέρετε ονομαστικά, τις τέσσερις (4) κατηγορίες στις οποίες διακρίνονται οι ηλώσεις ανάλογα με τον σκοπό και τις απαιτήσεις που προορίζονται. (Μονάδες 4)

**β)** Να περιγράψετε μια (1) από αυτές, όποια εσείς επιλέξετε. (Μονάδες 5)

**Μονάδες 9**