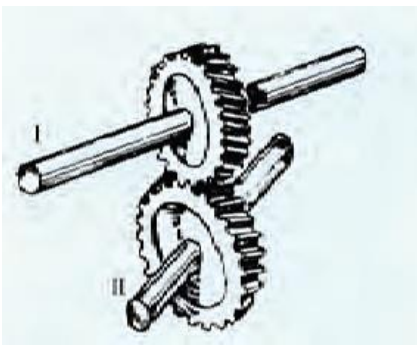
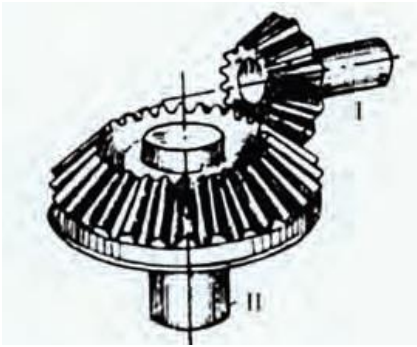
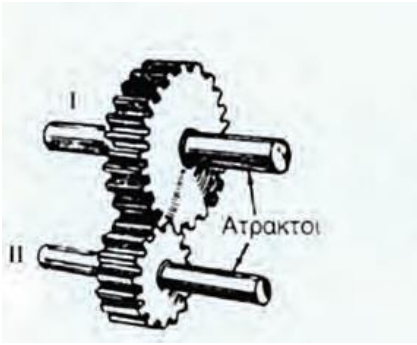





Θέμα 2^ο

2.1 Να γράψετε τους αριθμούς 1, 2, 3, από τη Στήλη Α (όπου αναγράφονται οι ονομασίες των οδοντώσεων των αξόνων που ανήκουν) και δίπλα ένα από τα γράμματα α, β, γ της Στήλης Β (όπου φαίνεται η σχεδίαση των αξόνων), που δίνει τη σωστή αντιστοίχιση.

ΣΤΗΛΗ Α Γεωμετρικοί άξονες των ατράκτων	ΣΤΗΛΗ Β Σχεδίαση οδοντώσεων
1. Παράλληλοι	α. 
2. Τεμνόμενοι	β. 
3. Ασύμβατοι	γ. 

2.2. Να γράψετε τους αριθμούς 1, 2, 3, 4 από τη Στήλη Α (όπου αναγράφονται οι ονομασίες των ιμάντων) και δίπλα ένα από τα γράμματα α, β, γ, δ της Στήλης Β (όπου φαίνεται η μορφή των ιμάντων), που δίνει τη σωστή αντιστοίχιση.

ΣΤΗΛΗ Α Ονομασία ιμάντων	ΣΤΗΛΗ Β Μορφή ιμάντων
1. Επίπεδος	α. 
2. Τραπεζοειδής κοινός	β. 
3. Χρονισμού με οδόντωση	γ. 
4. Τραπεζοειδής ενισχυμένος	δ. 