
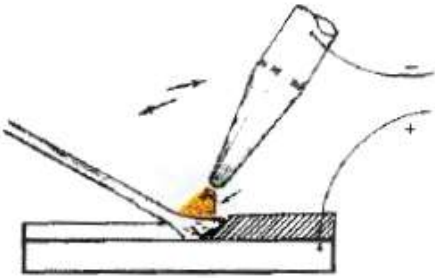
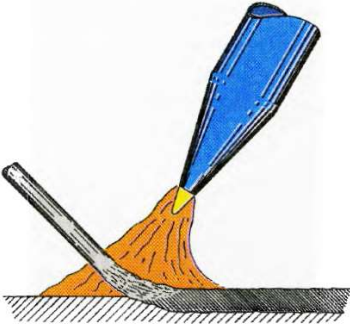



## Θέμα 2<sup>ο</sup>

**2.1.** Να γράψετε τους αριθμούς 1, 2, 3 από τη Στήλη Α και δίπλα ένα από τα γράμματα α, β, γ, δ της Στήλης Β που δίνει τη σωστή αντιστοίχιση. Σημειώνεται ότι ένα (1) γράμμα από τη Στήλη Β θα περισσέψει.

Στήλη Α (είδος ηλεκτροδίου)	Στήλη Β (εικόνα)
1. Γυμνό ηλεκτρόδιο	 α.
2. Επενδεδυμένο ηλεκτρόδιο	 β.
3. Ηλεκτρόδιο άνθρακα	 γ.
	 δ.

**2.2.** Κατά τη διάρκεια εκπαιδευτικής επίσκεψης σε μηχανουργείο, εκπαιδευόμενος διατυπώνει την άποψη ότι «στα επενδεδυμένα ηλεκτρόδια, η επένδυση είναι περιττή». Μπορείτε να του αναφέρετε τέσσερις (4) λόγους για τους οποίους διαφωνείτε με την άποψή του;

***Μονάδες 16***