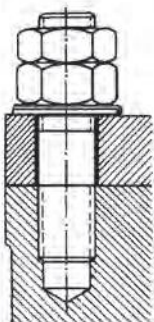
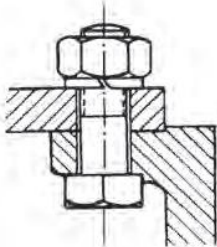
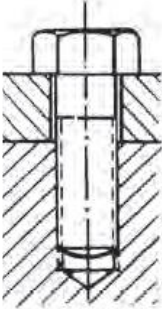


Θέμα 2°

2.1 Να γράψετε τους αριθμούς 1, 2, 3 από τη Στήλη Α και, δίπλα, ένα από τα γράμματα α, β, γ, δ της Στήλης Β, που δίνει τη σωστή αντιστοίχιση. Σημειώνεται ότι (1) ένα γράμμα από τη Στήλη Β θα περισσέψει.

Στήλη Α (κοχλίες)	Στήλη Β (ονομασία)
1. 	α. Περαστός κοχλίας.
2. 	β. Φυτευτός κοχλίας.
3. 	γ. Κοχλίας αγκυρώσεως.
	δ. Κοχλίας κεφαλής.

Μονάδες 9

2.2 α) Να χαρακτηρίσετε τις προτάσεις που ακολουθούν, γράφοντας δίπλα στον αριθμό που αντιστοιχεί σε κάθε πρόταση τη λέξη Σωστό, αν η πρόταση είναι σωστή ή τη λέξη Λάθος, αν η πρόταση είναι λανθασμένη.

1. Στο μετρικό σπείρωμα η γωνία κορυφής είναι 55° . (Μονάδες 3)

2. Το τριγωνικό σπείρωμα χρησιμοποιείται στους κοχλίες κίνησης. (Μονάδες 3)

3. Στο σπείρωμα Whitworth όλες οι διαστάσεις του σπειρώματος μετριοούνται σε ίντσες. (Μονάδες 3)

4. Το περικόχλιο κατασκευάζεται από υλικό μεγαλύτερης αντοχής απ' ό,τι ο κοχλίας. (Μονάδες 3)

β) Να δικαιολογήσετε την απάντησή σας στην πρόταση (4) του ερωτήματος α). (Μονάδες 4)

Μονάδες 16