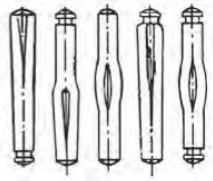
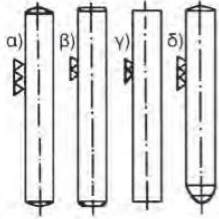
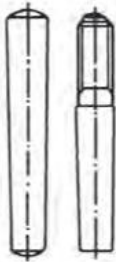


## Θέμα 2°

**2.1** Να γράψετε τους αριθμούς 1, 2, 3 από τη Στήλη Α και, δίπλα, ένα από τα γράμματα α, β, γ, δ της Στήλης Β, που δίνει τη σωστή αντιστοίχιση. Σημειώνεται ότι ένα (1) γράμμα από τη Στήλη Β θα περισσέψει.

Στήλη Α (Τύποι Πείρων )	Στήλη Β (Ονομασία Πείρων.)
<b>1.</b> 	<b>α.</b> Κωνικοί
<b>2.</b> 	<b>β.</b> Πολύσφηνα
<b>3.</b> 	<b>γ.</b> Κυλινδρικοί
	<b>δ.</b> Με εγκοπές

**2.2** Να χαρακτηρίσετε τις προτάσεις που ακολουθούν, γράφοντας δίπλα στο γράμμα που αντιστοιχεί σε κάθε πρόταση τη λέξη Σωστό, αν η πρόταση είναι σωστή ή τη λέξη Λάθος, αν η πρόταση είναι λανθασμένη.

**α.** Τα πολύσφηνα φέρουν στην περιφέρειά τους πολλές σφήνες, που διαμορφώνονται πάνω στην άτρακτο.

**β.** Η διαμόρφωση του άξονα σε πολύσφηνο γίνεται, όταν πρόκειται να μεταφερθεί μεγάλη ροπή στρέψης.

**γ.** Τα πολύσφηνα επιτρέπουν αξονικές μετατοπίσεις της πλήμνης και χρησιμοποιούνται συνήθως σε κιβώτια ταχυτήτων, σε σύνδεση οδοντωτών τροχών με ατράκτους.

**δ.** Στο πολύσφηνο τα αυλάκια των σφηνών κατασκευάζονται χωρίς να είναι συμμετρικά.

**Μονάδες 16**