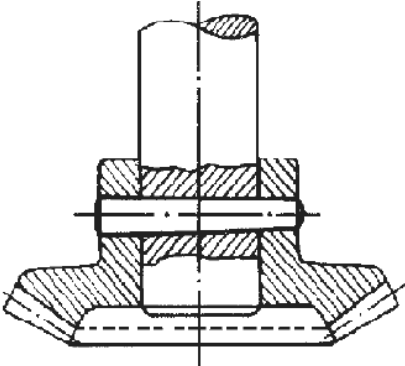

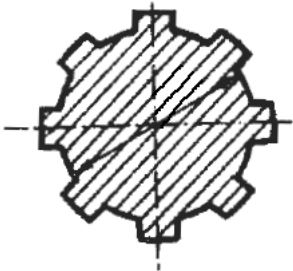


Θέμα 2^ο

2.1 Να γράψετε στις απαντήσεις σας τους αριθμούς 1, 2, 3 από τη Στήλη Α και δίπλα ένα από τα γράμματα α, β, γ, δ της Στήλης Β, που δίνει τη σωστή αντιστοίχιση. Σημειώνεται ότι ένα (1) γράμμα από τη Στήλη Β θα περισσέψει.

ΣΤΗΛΗ Α	ΣΤΗΛΗ Β
1. 	α. Τυπική (διαμήκης) σφήνα
2. 	β. Σφήνα οδηγός
3. 	γ. Εγκάρσια σφήνα
	δ. Πολύσφηνο

Μονάδες 9

2.2 Να γράψετε τον αριθμό για κάθε ένα από τα κενά και δίπλα, μία από τις λέξεις που συμπληρώνει σωστά το παρακάτω κείμενο. Σημειώνεται ότι τέσσερις (4) από τις λέξεις θα

περισσέψουν) Λέξεις που δίνονται: **εγκοπές, κάμψης, στρέψης, διάτμησης, σφήνες, άτρακτο, άξονα, ομφαλό.**

« Τα πολύσφηνα φέρουν στην περιφέρειά τους πολλές _____ (1), που διαμορφώνονται πάνω στην _____ (2). Έχουμε δηλαδή _____ (3) διαμορφωμένο σε πολύσφηνο. Αυτό γίνεται όταν πρόκειται να μεταφερθεί μεγάλη ροπή _____ (4).»

Μονάδες 16