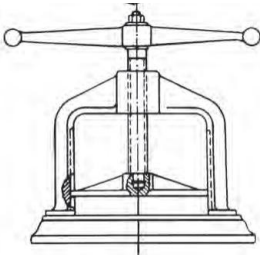
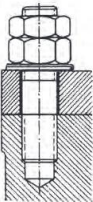
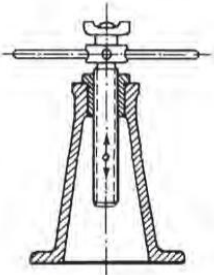


## Θέμα 2<sup>ο</sup>

**2.1** Να γράψετε τους αριθμούς 1, 2, 3 από τη Στήλη Α και, δίπλα, ένα από τα γράμματα α, β, γ, δ της Στήλης Β, που δίνει τη σωστή αντιστοίχιση. Σημειώνεται ότι (1) ένα γράμμα από τη Στήλη Β θα περισσέψει.

Στήλη Α	Στήλη Β
1. 	α. μπουζόνι
2. 	β. γρύλος
3. 	γ. αγκυρώσεως
	δ. πρέσσα

**Μονάδες 9**

**2.2** Να χαρακτηρίσετε τις προτάσεις που ακολουθούν, γράφοντας δίπλα στο γράμμα που αντιστοιχεί σε κάθε πρόταση τη λέξη Σωστό, αν η πρόταση είναι σωστή ή τη λέξη Λάθος, αν η πρόταση είναι λανθασμένη.

α. Οι φυτευτοί κοχλίες (μπουζόνια) περνούν ελεύθερα και στα δύο κομμάτια.

- β. Οι κοχλίες κίνησης καταπονούνται από την αξονική δύναμη  $P$  και τη ροπή στρέψης  $M_t$ .
- γ. Για ελαφρές κατασκευές χρησιμοποιούνται κοχλίες από κράματα αργιλίου.
- δ. Στην κοχλίωση ανήκει ο κοχλίας, το περικόχλιο, οι ροδέλες και οι ασφαλίσεις.

**Μονάδες 16**