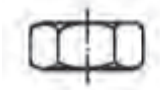


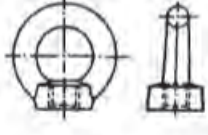


Θέμα 2°

2.1 Να γράψετε τους αριθμούς 1, 2, 3, 4 από τη Στήλη Α και, δίπλα, ένα από τα γράμματα α, β, γ, δ, ε της Στήλης Β, που δίνει τη σωστή αντιστοίχιση. Σημειώνεται ότι (1) ένα γράμμα από τη Στήλη Β θα περισσέψει.

Στήλη Α (τύποι περικοχλίων)	Στήλη Β (ονομασία περικοχλίου)
1. 	α. πεταλούδα
2. 	β. εξαγωνικό
3. 	γ. με αυλάκια
4. 	δ. κορώνα τυφλό
	ε. δακτυλίδι

Μονάδες 16

2.1 Να γράψετε τον αριθμό καθεμιάς από τις παρακάτω προτάσεις και δίπλα στον αριθμό, το γράμμα που αντιστοιχεί στη σωστή απάντηση.

1. Σ' ένα περικόχλιο, η απόσταση μεταξύ των δύο απέναντι πλευρών του εξαγώνου συμβολίζεται με:

α. b	β. e	γ. S	δ. h
-------------	-------------	-------------	-------------

2. Το ύψος του περικοχλίου συμβολίζεται με:

α. d	β. m	γ. h_k	δ. d_2
-------------	-------------	-----------------	-----------------

3. Σ' ένα περικόχλιο, η απόσταση μεταξύ των δύο απέναντι κορυφών του εξαγώνου συμβολίζεται με:

α. e	β. P	γ. h	δ. D
-------------	-------------	-------------	-------------

Μονάδες 9