




ΘΕΜΑ 2°

2.1 Να γράψετε τους αριθμούς 1, 2, 3 από τη Στήλη Α, όπου απεικονίζονται είδη συνδέσμων και δίπλα ένα από τα γράμματα α, β, γ, δ της Στήλης Β που δίνει τη σωστή αντιστοίχιση. Σημειώνεται ότι ένα (1) γράμμα από τη Στήλη Β θα περισσέψει.

Στήλη Α	Στήλη Β
1. 	α. «Αξονικά» κινητοί σύνδεσμοι
2. 	β. Σταθεροί ή άκαμπτοι σύνδεσμοι
3. 	γ. Εύκαμπτοι-ελαστικοί σύνδεσμοι ή κόπλερ
	δ. «Γωνιακά» κινητοί σύνδεσμοι «αρθρωτοί»

Μονάδες 9

2.2 Να γράψετε τον αριθμό κάθε κενού από το παρακάτω κείμενο και δίπλα, μία από τις λέξεις που συμπληρώνει σωστά την αντίστοιχη πρόταση του κειμένου. Σημειώνεται ότι (4) τέσσερις από τις λέξεις θα περισσέψουν. Λέξεις που δίνονται: **απόσβεση, έλλειψη, κάθετη, αξονική, εκτόπιση, απόσταση, κλίση, ροπή.**

«Οι κινητοί ή εύκαμπτοι σύνδεσμοι μεταφέρουν τη _____ (1) από τη μία άτρακτο στην άλλη, αλλά παράλληλα επιτρέπουν την _____ (2) μετατόπιση των δύο ατράκτων ή τη μικρή _____ (3) της μίας προς την άλλη ή ακόμα και την _____ (4) στρεπτικών κραδασμών κατά τη μεταφορά της ροπής από τη μία άτρακτο στην άλλη (όταν ο ρυθμός μεταφοράς της ροπής δεν είναι σταθερός).»

Μονάδες 16