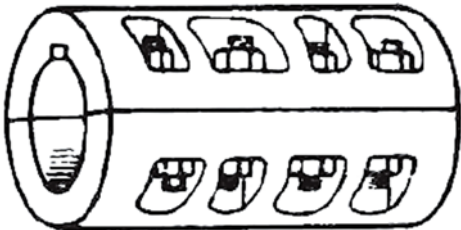
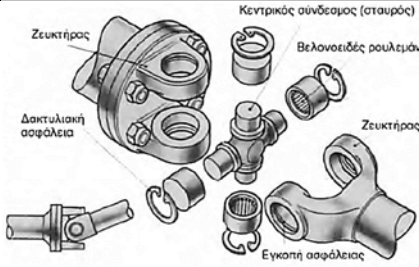
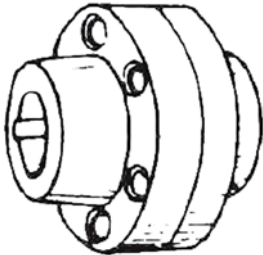
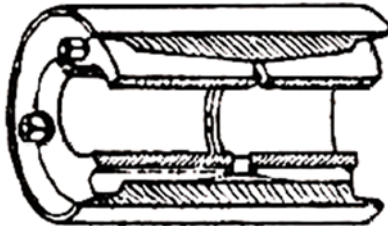
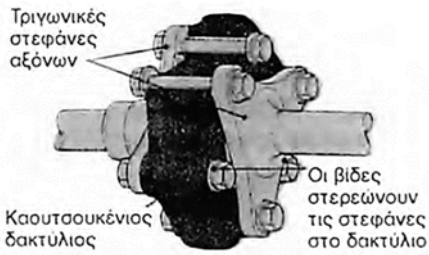


## Θέμα 2°

**2.1** Να γράψετε τους αριθμούς 1, 2, 3, 4 από τη Στήλη Α και δίπλα ένα από τα γράμματα α, β, γ, δ, ε της Στήλης Β που δίνει τη σωστή αντιστοίχιση. Σημειώνεται ότι ένα (1) γράμμα από τη Στήλη Β θα περισσέψει.

Στήλη Α	Στήλη Β
1. Σύνδεσμος Cardan	 α.
2. Σύνδεσμος τύπου Σέλλερς	 β.
3. Εύκαμπτος ελαστικός σύνδεσμος ή κόπλερ	 γ.
4. Κελυφωτός σύνδεσμος	 δ.
	 ε.

**2.2.** Να γράψετε τον αριθμό για κάθε ένα από τα κενά και δίπλα τη λέξη που συμπληρώνει σωστά την πρόταση. Σημειώνεται ότι τρεις (3) από τις λέξεις θα περισσέψουν. Λέξεις που δίνονται: **θλίψης, πατούρες, τρύπες, ροπής, έδρανα, ασφάλειες.**

«Ο δισκοειδής σύνδεσμος αποτελείται από δύο χυτοσιδηρούς ή χαλύβδινους δίσκους που φέρουν περιφερειακά \_\_\_\_\_ **(1)** για τοποθέτηση κοχλιών, ενώ στο εσωτερικό τους υπάρχουν σφηνάυλακες για την τοποθέτηση σφηνών για τη μεταφορά της \_\_\_\_\_ **(2)**. Για το κεντράρισμα των δύο δίσκων διαμορφώνονται στο μέτωπό τους \_\_\_\_\_ **(3)** («αρσενική» στο ένα και «θηλυκή» στο άλλο).»

**Μονάδες 9**