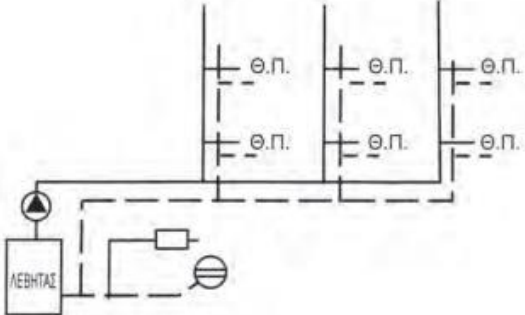
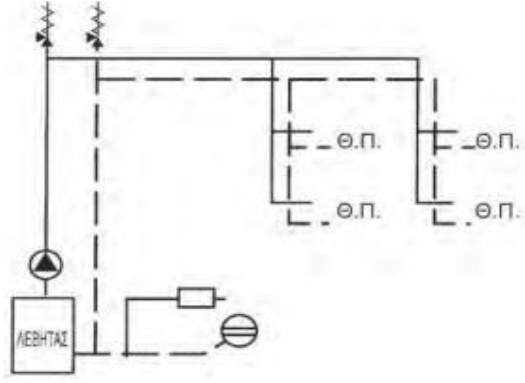
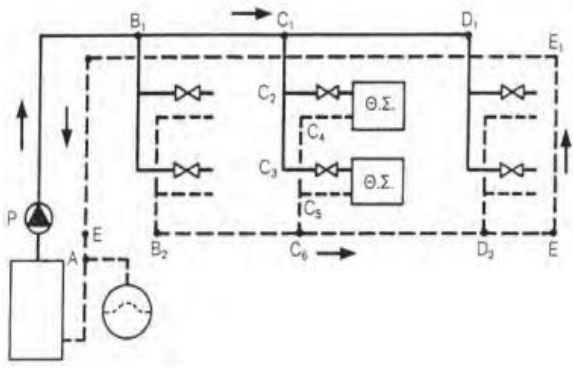


Θέμα 2^ο

2.1 Να γράψετε τους αριθμούς 1, 2, 3 από τη Στήλη Α, όπου απεικονίζονται σχηματικές παραστάσεις διαφορετικών διανομών δισωλήνιου συστήματος, και δίπλα ένα από τα γράμματα α, β, γ, δ της Στήλης Β που δίνει τη σωστή αντιστοίχιση. Σημειώνεται ότι (1) ένα γράμμα από τη Στήλη Β θα περισσέψει.

Στήλη Α	Στήλη Β
<p>1.</p> 	<p>α. Διανομή από πάνω</p>
<p>2.</p> 	<p>β. Διανομή από κάτω</p>
<p>3.</p> 	<p>γ. Ανεστραμμένη διανομή από κάτω</p>
	<p>δ. Ανεστραμμένη διανομή</p>

2.2 Να αναφέρετε τις διακρίσεις που αναφέρονται σε εγκαταστάσεις με φορέα θερμότητας το ζεστό νερό ανάλογα:

- α.** Με την αιτία κυκλοφορίας.
- β.** Με τον τρόπο διανομής στα στοιχεία απόδοσης της θερμότητας στους χώρους.

Μονάδες 16