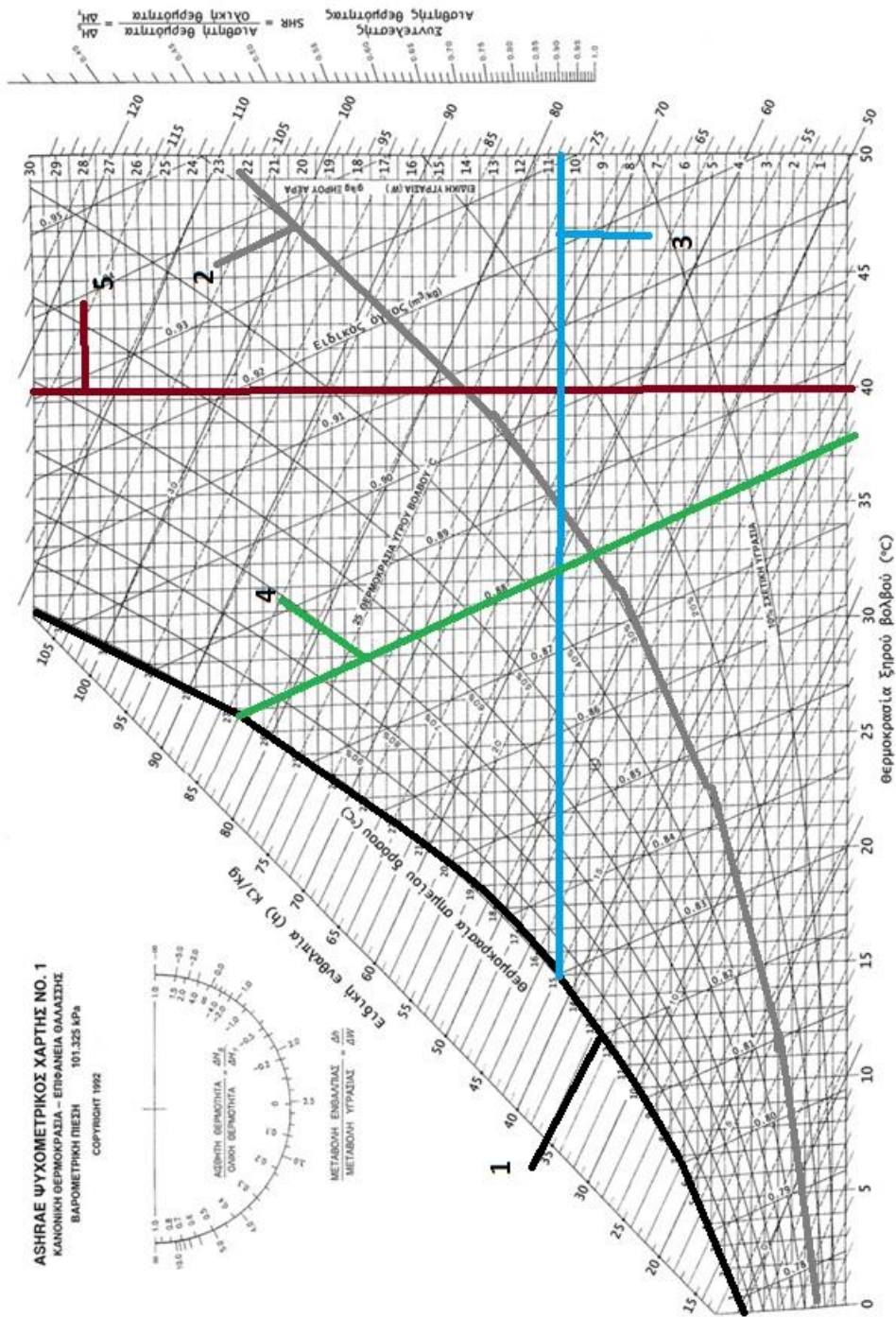


## ΘΕΜΑ 2<sup>ο</sup>

2.1 Με βάση το παρακάτω διάγραμμα που απεικονίζει τις καμπύλες σε έναν ψυχομετρικό χάρτη, να γράψετε τους αριθμούς 1, 2, 3, 4, 5 από τη Στήλη Α και δίπλα ένα από τα γράμματα α, β, γ, δ, ε της Στήλης Β που δίνει τη σωστή αντιστοίχιση.

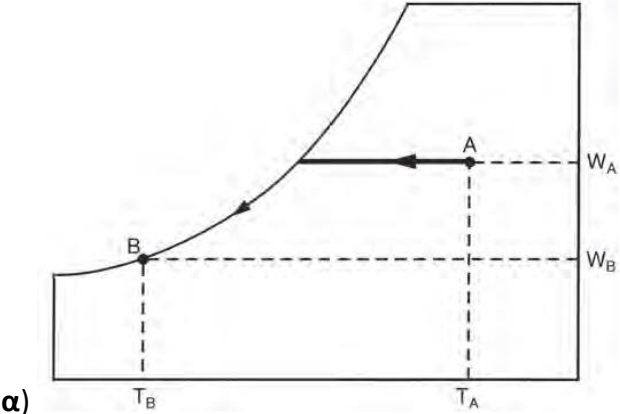
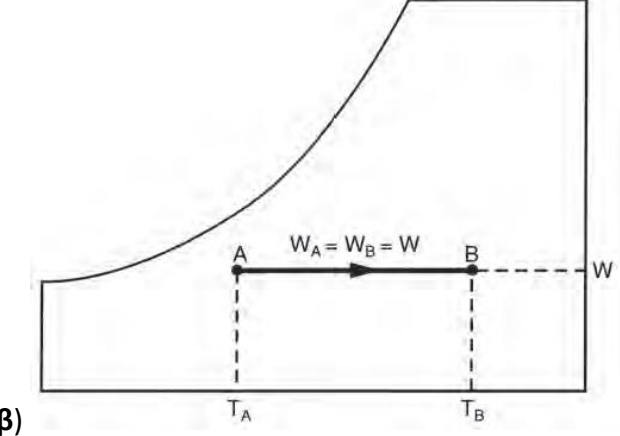


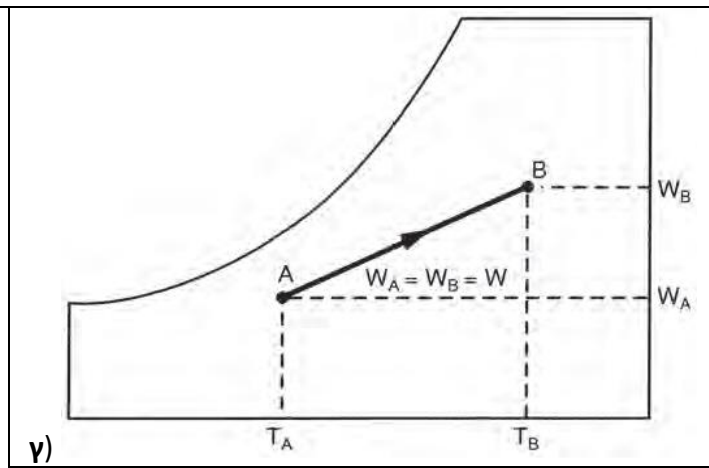
ΣΤΗΛΗ Α	ΣΤΗΛΗ Β
1.	α) Γραμμή σχετικής υγρασίας.
2.	β) Καμπύλη κορεσμού.

3.	γ) Γραμμή λόγου υγρασίας.
4.	δ) Γραμμή θερμοκρασίας ξηρού βολβού.
5.	ε) Γραμμή ειδικού όγκου.

**Μονάδες 15**

**2.2** Να γράψετε τους αριθμούς 1, 2 από τη Στήλη Α και δίπλα ένα από τα γράμματα α, β, γ της Στήλης Β που δίνει τη σωστή αντιστοίχιση. Σημειώνεται ότι ένα γράμμα από τη Στήλη Β θα περισσέψει.

ΣΤΗΛΗ Α	ΣΤΗΛΗ Β
1. Θέρμανση χωρίς ύγρανση.	 <p>α)</p>
2. Ψύξη αέρα με αφύγρανση.	 <p>β)</p>



Μονάδες 10