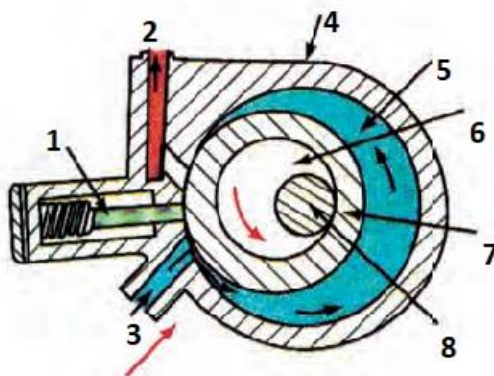


ΘΕΜΑ 2^ο

2.1 Με βάση το Σχήμα 1, που απεικονίζει έναν συμπιεστή τύπου τύμπανου, να γράψετε τους αριθμούς 1, 2, 3, 4, 5, 6, 7, 8 από τη Στήλη Α και δίπλα ένα από τα γράμματα α, β, γ, δ, ε, ζ, η, θ της Στήλης Β που δίνει τη σωστή αντιστοίχιση.





Σχήμα 1

ΣΤΗΛΗ Α	ΣΤΗΛΗ Β
1.	α) Κέλυφος.
2.	β) Άξονας του στροφέα.
3.	γ) Κύλινδρος.
4.	δ) Λάμα.
5.	ε) Κατάθλιψη.
6.	ζ) Έκκεντρο.
7.	η) Στροφέας (Ρότορας).
8.	θ) Αναρρόφηση.

Μονάδες 16

2.2 Να γράψετε τους αριθμούς 1, 2, 3 από τη στήλη Α, όπου αναγράφονται οι ονομασίες των συμπιεστών και δίπλα ένα από τα γράμματα α, β, γ της στήλης Β, όπου φαίνονται οι συμπιεστές, που δίνει τη σωστή αντιστοίχιση.

ΣΤΗΛΗ Α	ΣΤΗΛΗ Β
Ονομασία συμπιεστών .	Συμπιεστές.
1. Ημιεργητικός συμπιεστής.	α.

	
2. Ερμητικός συμπιεστής.	β. 
3. Ανοιχτού τύπου συμπιεστής.	γ. 