






## **ΘΕΜΑ 2°**

**2.1** Να αναφέρετε τα μέρη στα οποία γίνεται συντήρηση στις εγκαταστάσεις θέρμανσης.

**Μονάδες 10**

**2.2** Με βάση το παρακάτω σχήμα όπου απεικονίζονται τα είδη εργαλείων, να γράψετε τους αριθμούς 1, 2, 3, 4, 5 από τη Στήλη Α και δίπλα ένα από τα γράμματα α, β, γ, δ, ε της Στήλης Β που δίνει τη σωστή αντιστοίχιση.

<b>ΣΤΗΛΗ Α</b> Ονομασία	<b>ΣΤΗΛΗ Β</b> Είδη εργαλείων
<b>1.</b> Φλόγιστρο.	<b>α.</b> 
<b>2.</b> Διαστολικό σωλήνων	<b>β.</b> 

<p>3. Πυρόμετρο.</p>	<p>γ.</p> 
<p>4. Κουρπαδόρος.</p>	<p>δ.</p> 
<p>5. Κλειδιά Άλλεν.</p>	<p>ε.</p> 

**Μονάδες 15**