



Θέμα 2^ο

2.1 Που μπορεί να κάνει συντήρηση ένας τεχνίτης;

Μονάδες 9

2.2 Με βάση το παρακάτω πίνακα όπου απεικονίζονται τα είδη εργαλείων, να γράψετε τους αριθμούς 1, 2, 3, 4 από τη Στήλη Α και δίπλα ένα από τα γράμματα α, β, γ, δ της Στήλης Β που δίνει τη σωστή αντιστοίχιση.


ΣΤΗΛΗ Α Ονομασία	ΣΤΗΛΗ Β Είδη εργαλείων
1. Καλέμια και βελόνια.	<div>α. </div>
2. Ηλεκτρονική ηλεκτροκόλληση με inverter.	<div>β. </div>

3. Ηλεκτροκόλληση.



γ.

4. Βιδολόγος.



δ.

Μονάδες 16