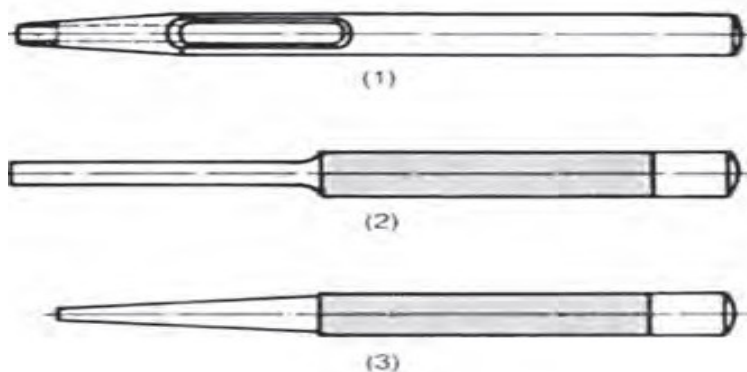


ΘΕΜΑ 2°





2.1 Με βάση το παρακάτω σχήμα όπου απεικονίζονται τα είδη ζουμπάδων, να γράψετε δίπλα στους αριθμούς 1, 2, 3 στη στήλη Α ένα από τα γράμματα α, β, γ της στήλης Β, που δίνει τη σωστή αντιστοίχιση.



ΣΤΗΛΗ Α	ΣΤΗΛΗ Β
1	α. Κοίλος ζουμπάς
2	β. Κωνικός ολόσωμος ζουμπάς
3	γ. Παράλληλος ολόσωμος ζουμπάς

Μονάδες 9

2.2 Με βάση το παρακάτω σχήμα όπου απεικονίζονται τα είδη κλειδιών, να γράψετε δίπλα στους αριθμούς 1, 2, 3, 4 στη στήλη Α ένα από τα γράμματα α, β, γ, δ της στήλης Β, που δίνει τη σωστή αντιστοίχιση.

Στήλη Α	Στήλη Β
1)Γερμανικό κλειδί	 <p>α</p>
2)Σωληνοκάβουρας	 <p>β</p>
3)Πολυγωνικό κλειδί	 <p>γ</p>
4)Γαλλικό κλειδί	 <p>δ</p>