
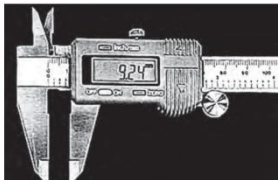




## **ΘΕΜΑ 2°**

**2.1** Να αντιστοιχίσετε τους αριθμούς 1, 2, 3, 4 από τη στήλη Α με ένα από τα γράμματα α, β, γ, δ, ε της στήλης Β που δίνει τη σωστή αντιστοίχιση. (Ένα γράμμα από τη στήλη Β θα περισσέψει).

ΣΤΗΛΗ Α	ΣΤΗΛΗ Β
1. 	α) Ηλεκτρονικό ψηφιακό παχύμετρο
2. 	β) Μικρόμετρο μέτρησης εσωτερικών διαστάσεων
3. 	γ) Μικρόμετρο
4. 	δ) Μετρητικό ρολόι
	ε) Βαθύμετρο

**Μονάδες 16**

**2.2** Να αναφέρετε τουλάχιστον τρία βασικά γνωρίσματα της λίμας.

**Μονάδες 9**