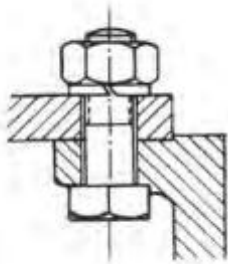
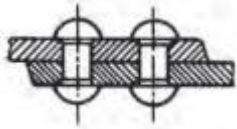
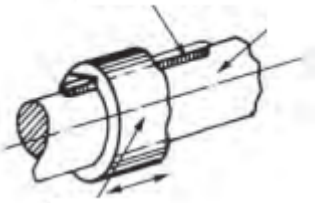


Θέμα 2^ο

2.1 Να γράψετε τους αριθμούς 1, 2, 3, από τη στήλη Α και δίπλα ένα από τα γράμματα α, β, γ, δ της στήλης Β που δίνει τη σωστή αντιστοίχιση. Σημειώνεται ότι ένα γράμμα από τη στήλη Β θα περισσέψει.

ΣΤΗΛΗ Α (εικόνα σύνδεσης)	ΣΤΗΛΗ Β (ονομασία σύνδεσης)
1. 	α. Σφήνοσύνδεση
2. 	β. Κοχλιοσύνδεση
3. 	γ. Συγκόλληση
	δ. Ήλωση

Μονάδες 9

2.2 Να χαρακτηρίσετε τις προτάσεις που ακολουθούν, γράφοντας δίπλα στο γράμμα που αντιστοιχεί σε κάθε πρόταση τη λέξη Σωστό, αν η πρόταση είναι σωστή ή τη λέξη Λάθος, αν η πρόταση είναι λανθασμένη.

- α.** Σύνδεση είναι η σταθερή συγκράτηση δύο ή περισσότερων μεταλλικών αντικειμένων ή στοιχείων μεταξύ τους.
- β.** Στους κοχλίες επιμήκυνσης η διάμετρος του κορμού είναι μεγαλύτερη από την εσωτερική διάμετρο του σπειρώματος.
- γ.** Ο κοχλίας αποτελείται από τον κορμό και τη κεφαλή.
- δ.** Σε μια σύνδεση ελασμάτων οι κοχλίες πρέπει να έχουν τη σωστή απόσταση ο ένας από τον άλλο, ώστε να υπάρχει διαθέσιμος χώρος για τα κλειδιά.

Μονάδες 16