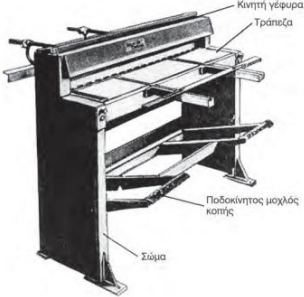


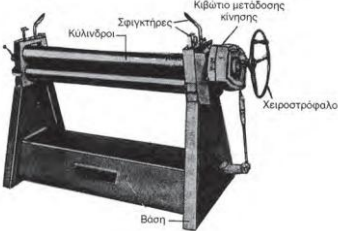


Θέμα 2^ο

2.1 Να γράψετε τους αριθμούς 1, 2, 3, 4 από τη στήλη Α και δίπλα ένα από τα γράμματα α, β, γ, δ, ε της στήλης Β που δίνει τη σωστή αντιστοίχιση. Σημειώνεται ότι ένα γράμμα από τη στήλη Β θα περισσέψει.

ΣΤΗΛΗ Α (Εικόνα μηχανής)	ΣΤΗΛΗ Β (Ονομασία Μηχανής)
1. 	α. Φορητό ηλεκτρικό ψαλίδι
2. 	β. Υδραυλική πρέσα
3. 	γ. Χειροκίνητος κυλινδροπιεστής
4. 	δ. Ποδοκίνητο μηχανικό ψαλίδι
	ε. Καμπτική μηχανή

Μονάδες 16

2.2 Να χαρακτηρίσετε τις προτάσεις που ακολουθούν, γράφοντας δίπλα στο γράμμα που αντιστοιχεί σε κάθε πρόταση τη λέξη Σωστό, αν η πρόταση είναι σωστή ή τη λέξη Λάθος, αν η πρόταση είναι λανθασμένη.

- α.** Οι πρέσες ανάλογα με τον τρόπο κίνησης διακρίνονται σε υδραυλικές και μηχανικές.
- β.** Οι στράντζες ανάλογα με την κινητήρια δύναμη που χρησιμοποιείται διακρίνονται σε χειροκίνητες και ηλεκτρικές.
- γ.** Το φορητό ηλεκτρικό ψαλίδι κοπής κόβει μόνο ελάσματα μεγάλου πάχους.

Μονάδες 9