




Θέμα 2°

2.1 Να γράψετε στις απαντήσεις σας τους αριθμούς 1, 2, 3 από τη στήλη Α και δίπλα ένα από τα γράμματα α, β, γ, δ της στήλης Β, που δίνει τη σωστή αντιστοίχιση. Σημειώνεται ότι ένα γράμμα από τη στήλη Β θα περισσέψει.

ΣΤΗΛΗ Α (Εργαλεία χειρός)	ΣΤΗΛΗ Β (Είδος)
1 	α. Πένσα
2 	β. Ξύστρα
3 	γ. Τσιμπίδα
	δ. Κόφτης

Μονάδες 9

2.2 Να γράψετε τον αριθμό για κάθε ένα από τα κενά και δίπλα, μία από τις λέξεις που συμπληρώνει σωστά το παρακάτω κείμενο. (Σημειώνεται ότι τέσσερις από τις λέξεις θα περισσέψουν) Δίνονται οι λέξεις: **σπειρώματα, αυλακώσεις, λίμες, κόφτες, πένσες, πλαγιόκοπη, παράλληλη, τσιμπίδες.**

«Οι _____(1) χρησιμοποιούνται, για να κόβουμε σύρματα, λεπτές μεταλλικές ράβδους και ελάσματα. Η _____(2) πένσα χρησιμοποιείται για κοπή συρμάτων και για πρόχειρες κοχλιώσεις-αποκοχλιώσεις, για κάμψη συρμάτων και ελασμάτων και για συγκράτηση κομματιών. Οι _____(3)

συναντώνται σε ποικιλία μορφών και χρησιμοποιούνται για τη διαμόρφωση λεπτών μεταλλικών ελασμάτων ή συρμάτων. Οι τσιμπίδες με ρυθμιζόμενο άνοιγμα σιαγόνων φέρουν εσωτερικά _____(4) για καλύτερη συγκράτηση.»

Μονάδες 16