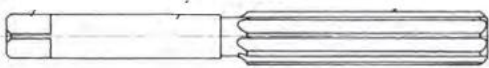




## Θέμα 2°

**2.1** Να γράψετε τους αριθμούς 1, 2, 3 από τη Στήλη Α και δίπλα, ένα από τα γράμματα α, β, γ της Στήλης Β, που δίνει τη σωστή αντιστοίχιση.

ΣΤΗΛΗ Α	ΣΤΗΛΗ Β
<b>1.</b> 	<b>α.</b> Παράλληλο γλύφانو χεριού με ελικοειδή δόντια.
<b>2.</b> 	<b>β.</b> Παράλληλο γλύφانو χεριού με παράλληλα δόντια.
<b>3.</b> 	<b>γ.</b> Κωνικό γλύφانو χεριού.

**Μονάδες 9**

**2.2** Να χαρακτηρίσετε τις προτάσεις που ακολουθούν, γράφοντας δίπλα στο γράμμα που αντιστοιχεί σε κάθε πρόταση τη λέξη Σωστό, αν η πρόταση είναι σωστή ή τη λέξη Λάθος, αν η πρόταση είναι λανθασμένη.

- α.** Τα γλύφανα είναι περιστρεφόμενα κοπτικά εργαλεία με πολλές κόψεις.
- β.** Τα κυλινδρικά γλύφανα διακρίνονται στα γλύφανα με σταθερή διάμετρο και στα γλύφανα με ρυθμιζόμενη διάμετρο.
- γ.** Στα ρυθμιζόμενα γλύφανα το σώμα φέρει αυλάκια σταθερού βάθους, στα οποία εφαρμόζονται κοπτικές λεπίδες από ταχυχάλυβα μεταβλητού πλάτους.
- δ.** Τα κωνικά γλύφανα χρησιμοποιούνται για την τελειοποίηση κωλουροκωνικών τρυπών με συνήθη κωνικότητα 1:50.

**Μονάδες 16**