




Θέμα 2^ο

2.1 Να γράψετε τους αριθμούς 1, 2, 3 από τη Στήλη Α και δίπλα, ένα από τα γράμματα α, β, γ της Στήλης Β, που δίνει τη σωστή αντιστοίχιση.

ΣΤΗΛΗ Α	ΣΤΗΛΗ Β
1. 	α. Μεταλλοψάλιδο χεριού που χρησιμοποιείται για κοπή ελασμάτων σε ευθείες γραμμές μεγάλου μήκους.
2. 	β. Μεταλλοψάλιδο χεριού που χρησιμοποιείται για κοπή εσωτερικών καμπυλών.
3. 	γ. Μεταλλοψάλιδο χεριού που χρησιμοποιείται για κοπή ελασμάτων σε ευθείες γραμμές όπως και για κοπή εξωτερικών καμπυλών.

Μονάδες 9

2.2 Να χαρακτηρίσετε τις προτάσεις που ακολουθούν, γράφοντας δίπλα στο γράμμα που αντιστοιχεί σε κάθε πρόταση τη λέξη Σωστό, αν η πρόταση είναι σωστή ή τη λέξη Λάθος, αν η πρόταση είναι λανθασμένη.

- α.** Οι κόφτες χρησιμοποιούνται, για να κόβουμε σύρματα, λεπτές μεταλλικές ράβδους και ελάσματα.
- β.** Η πένσα με παράλληλες σιαγόνες χρησιμοποιείται για κοπή συρμάτων και για πρόχειρες κοχλιώσεις –αποκοχλιώσεις, για κάμψη συρμάτων και ελασμάτων και για συγκράτηση κομματιών.
- γ.** Οι τσιμπίδες με ρυθμιζόμενο άνοιγμα σιαγόνων φέρουν εξωτερικά αυλακώσεις για καλύτερη συγκράτηση.
- δ.** Οι τσιμπίδες χρησιμοποιούνται για τη διαμόρφωση λεπτών μεταλλικών ελασμάτων ή συρμάτων.

